




5. Dzisiaj jest 17 III 2011 r. Poniżej przedstawiono towary oraz daty ich przydatności do spożycia. Który produkt jest przeterminowany?



- A) 15 IX 2011 r.    B) 4 III 2012 r.    C) 11 VI 2011 r.    D) 25 II 2011 r.

6. Babcia Marcina za 36 lat będzie obchodzić swoje setne urodziny. Ile lat ma obecnie babcia Marcina?

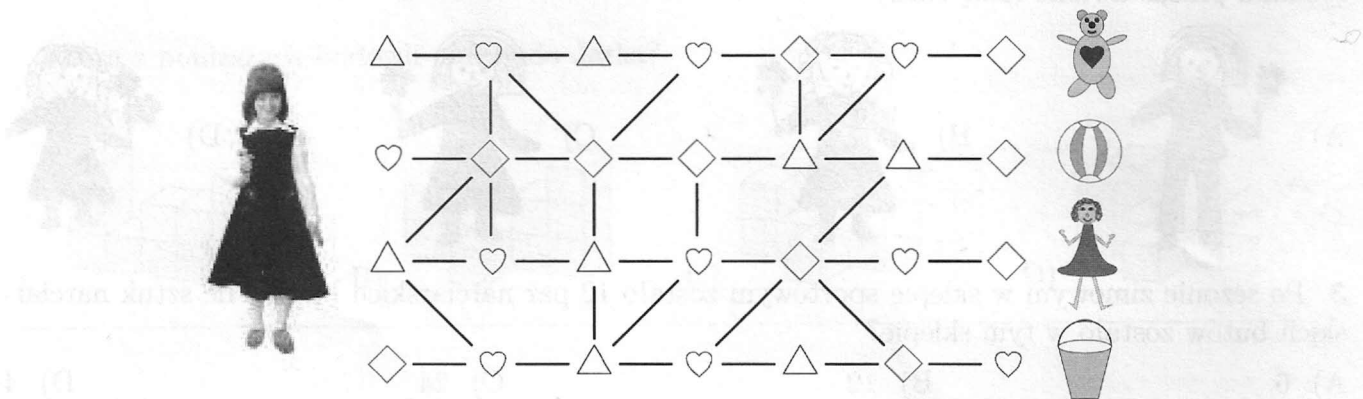
- A) 74    B) 64    C) 66    D) 36

**Pytania po 4 punkty**

7. Ania ma psy i 4 koty. Liczba kocich uszu jest równa liczbie psich łap. Ile psów ma Ania?

- A) 8    B) 2    C) 4    D) 6

8. Ania, aby odnaleźć swoją zabawkę, musi pójść drogą, na której będzie mijać kolejno tylko następujące znaki  $\triangle$ ,  $\heartsuit$ ,  $\diamond$ ,  $\triangle$ ,  $\heartsuit$ ,  $\diamond$ ,  $\triangle$ ,  $\heartsuit$ ,  $\diamond$ . Która zabawka należy do Ani?



- A)    B)    C)    D)

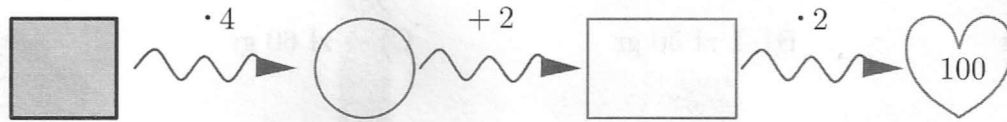
9. Na rysunku poniżej przedstawiony jest fragment rozkładu jazdy pociągów. W tej chwili jest godzina 8:45. Pan Tomek pojedzie z Torunia do Warszawy najbliższym pociągiem. Pociąg ten pokonuje tę trasę w 2 godziny i 45 minut. O której godzinie pan Tomek będzie w Warszawie?

STACJA TORUŃ GŁÓWNY – odjazdy					
WARSZAWA	6:55	8:30	9:15	11:15	12:50

- A) 11 : 30    B) 12 : 00    C) 11 : 15    D) 12 : 15

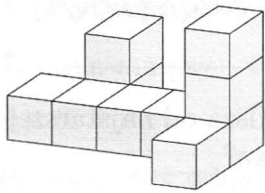


17. Jaką liczbę należy wstawić w szary kwadracik, aby po wykonaniu wskazanych działań otrzymać liczbę 100?

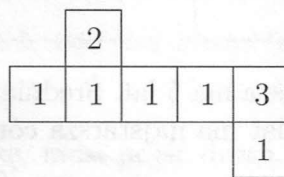


- A) 11                      B) 9                      C) 14                      D) 12

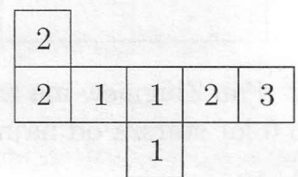
18. Paweł i Jarek tworzyli budowle z identycznych, sześciennych klocków. Paweł ułożył budowlę przedstawioną na rysunku 1. Na rysunku 2 przedstawiono widok budowli Pawła z góry. Jarek ułożył budowlę, której widok z góry przedstawiony jest na rysunku 3. Uwaga: liczby umieszczone na ściankach wskazują, ile klocków w tym miejscu ułożono jeden na drugim.



Rysunek 1.

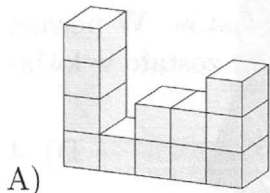


Rysunek 2.

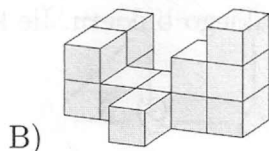


Rysunek 3.

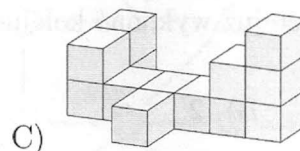
Która z poniższych budowli należy do Jarka?



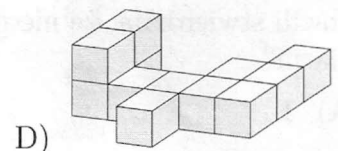
A)



B)



C)



D)